

**GUVERNUL ROMÂNIEI
MINISTERUL EDUCAȚIEI ȘI CERCETĂRII
CENTRUL NAȚIONAL PENTRU CURRICULUM ȘI EVALUARE**

**EVALUAREA NAȚIONALĂ
LA FINALUL CLASEI a II-a 2026**

**MATEMATICĂ ȘI EXPLORAREA MEDIULUI
TEST**

Județul / sectorul

Localitatea


Unitatea de învățământ

Numele și prenumele elevei / elevului

Clasa a II-a

(Pagina 2 lăsată liberă intenționat)

10. Echipa EXPLORATORII a realizat rama unui afiș, folosind imagini ale animalelor studiate. Observă regula de completare a ramei afișului și alege care sunt următoarele două animale ce vor completa afișul. (5p.)



Încercuiește litera corespunzătoare răspunsului corect.

- A.
- B.
- C.
- D.

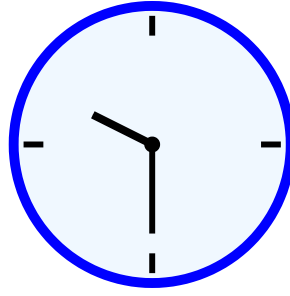
<i>Nu se completează de către elev</i>	Punctaj	
	Cod	

11. La activitatea de la Zoo au participat 36 de elevi de clasa a II-a. Aceștia au fost grupați în echipe de câte 4 elevi. Câte echipe s-au format cu elevii clasei a II-a? (5p.)

Încercuiește litera corespunzătoare răspunsului corect.

- A. 8
- B. 9
- C. 32
- D. 40

<i>Nu se completează de către elev</i>	Punctaj	
	Cod	



14. Elevii au început activitatea la ora indicată pe ceasul de mai sus (10:30) și aceasta s-a desfășurat pe parcursul a 3 ore și jumătate. La ce oră s-a terminat activitatea? (5p.)

Încercuiește litera corespunzătoare răspunsului corect.

- A. ora 13:30
- B. ora 14:00
- C. ora 14:30
- D. ora 15:00

<i>Nu se completează de către elev</i>	Punctaj	
	Cod	


15. Vlad le spune colegilor săi că trebuie să le dea apă curată păsărilor și că vor folosi o anumită cantitate. Cu ce unitate de măsură vor măsura ei apa? (5p.)

Încercuiește litera corespunzătoare răspunsului corect.

- A. litrul
- B. metrul
- C. kilogramul
- D. centimetrul

<i>Nu se completează de către elev</i>	Punctaj	
	Cod	

16. Ioanei îi plac foarte mult papagalii. Privește imaginea de mai jos. În ce parte a imaginii se află papagalii? (5p.)





Încercuiește litera corespunzătoare răspunsului corect.

- A. în dreapta jos
- B. în stânga sus
- C. în stânga jos
- D. în dreapta sus

<i>Nu se completează de către elev</i>	Punctaj	
	Cod	

17. Echipa EXPLORATORII a notat într-un tabel prețul alimentelor pentru animale.

Tipul hranei	Prețul
semințe	3 lei
banane	4 lei
insecte	5 lei
pește	6 lei

Matei a calculat și a spus că pentru 1 pungă de semințe, 1 kg de banane, 1 cutie de insecte și 2 găletușe cu pește s-a plătit suma de 24 de lei. (8p.)

Crezi că are dreptate? Explică, în spațiul dat, răspunsul tău.

[] Da, pentru că

.....

[] Nu, pentru că

.....

Punctaj total obținut	<i>Nu se completează de către elev</i>	Punctaj	
		Cod	