

**GUVERNUL ROMÂNIEI
MINISTERUL EDUCAȚIEI ȘI CERCETĂRII
CENTRUL NAȚIONAL PENTRU CURRICULUM ȘI EVALUARE**

**EVALUAREA NAȚIONALĂ
LA FINALUL CLASEI a II-a 2026**

**MATEMATICĂ ȘI EXPLORAREA MEDIULUI
TEST**

Județul / sectorul

Localitatea


Școala

Numele și prenumele elevei / elevului









Clasa a II-a

Pagina 2 lăsată liberă intenționat

10. Echipa VOLUNTARII a realizat rama unui afiș de informare, folosind imagini cu animale. Observă regula de completare a ramei afișului și alege care sunt următoarele două animale ce vor completa afișul. (5p.)



Încercuiește litera corespunzătoare răspunsului corect.

- A.  
- B.  
- C.  
- D.  


Nu se completează de către elev	Punctaj	
	Cod	

11. La activitatea de îngrijire au participat 36 de elevi de clasa a II-a. Aceștia au fost grupați în echipe de câte 4 elevi. Câte echipe s-au format cu elevii clasei a II-a? (5p.)

Încercuiește litera corespunzătoare răspunsului corect.

- A. 7
- B. 8
- C. 9
- D. 32

Nu se completează de către elev	Punctaj	
	Cod	



14. Elevii au început activitatea la ora indicată pe ceasul de mai sus (10:00) și aceasta s-a desfășurat pe parcursul a 3 ore și jumătate. La ce oră s-a terminat activitatea? (5p.)

Încercuiește litera corespunzătoare răspunsului corect.

- A. ora 13:00
- B. ora 13:30
- C. ora 14:00
- D. ora 14:30

Nu se completează de către elev	Punctaj	
	Cod	

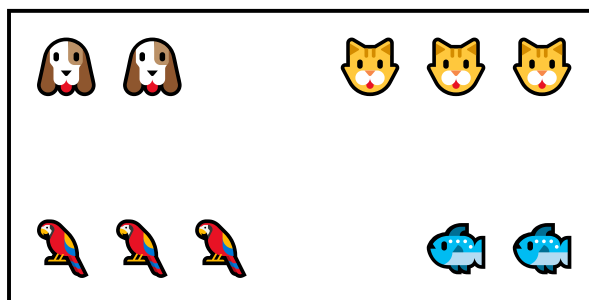
15. Sofia le spune colegilor săi că trebuie să umple acvariile cu apă proaspătă. Cu ce unitate de măsură vor măsura ei apa? (5p.)

Încercuiește litera corespunzătoare răspunsului corect.

- A. centimetrul
- B. kilogramul
- C. litrul
- D. metrul

Nu se completează de către elev	Punctaj	
	Cod	

16. Mihai iubește foarte mult pisicile. Privește imaginea de mai jos. În ce parte a imaginii se află 3 pisici? (5p.)



Încercuiește litera corespunzătoare răspunsului corect.

- A. în dreapta jos
- B. în dreapta sus
- C. în stânga jos
- D. în stânga sus

Nu se completează de către elev	Punctaj	
	Cod	

17. Echipa VOLUNTARII a notat într-un tabel prețul pentru produsele necesare fiecărui animal.

Produsul	Prețul
zgardă (câine)	9 lei
jucărie (pisică)	6 lei
semințe (papagal)	4 lei
mâncare (pești)	5 lei

Radu a calculat și a spus că pentru o zgardă, două jucării pentru pisici, un pachet de semințe și o cutie de mâncare pentru pești s-a plătit suma de 30 de lei. (8p.)

Crezi că are dreptate? Explică, în spațiul dat, răspunsul tău.

Da, pentru că

.....

.....

Nu, pentru că

.....

.....

Punctaj total obținut	Nu se completează de către elev	Punctaj	
		Cod	