

CONCURSUL ȘCOLAR NAȚIONAL DE COMPETENȚĂ ȘI PERFORMANȚĂ COMPER  
EDIȚIA 2024-2025 / ETAPA I – 17 ianuarie 2025  
COMPER – MATEMATICĂ

CLASA PREGĂTITOARE


Numele: .....  
Prenumele: .....  
Școala: ..... / Clasa: .....  
Codul C.I.C. (codul de identificare Comper) al elevului: .....  
Codul C.I.C. (codul de identificare Comper) al profesorului mentor: .....

- Toate subiectele sunt obligatorii.
- Timpul efectiv de lucru este de 50 de minute.
- Cerințele vor fi citite de învățător/supraveghetor.

Ascultă cu atenție enunțurile, apoi bifează în grilă răspunsurile corecte.

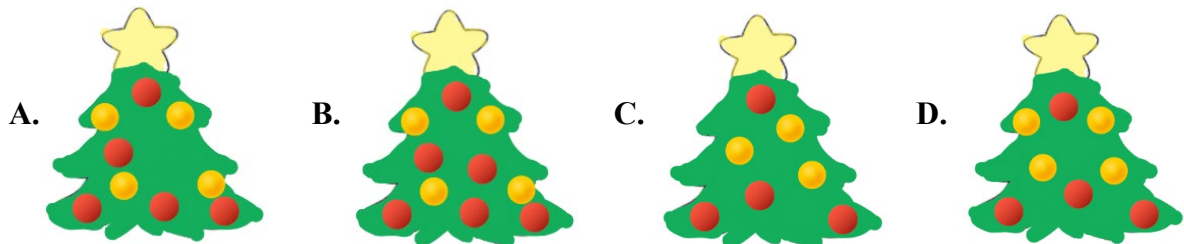
STANDARD

1. CÂȚI PINGUINI ARE ACEASTĂ FAMILIE?




- A. 9;                      B. 6;                      C. 8;                      D. 10.


2. ALEGE BRADUL CARE A FOST DECORAT CU CEL MAI MARE NUMĂR DE GLOBULEȚE.



3. CARE ESTE CEL MAI ÎNALT OM DE ZĂPADĂ?




4. REALIZEAZĂ CORESPONDENȚA DINTRE FIECARE MULȚIME ȘI NUMĂRUL CORESPUNZĂTOR DE ELEMENTE. CE NUMĂR A RĂMAS FĂRĂ MULȚIME?



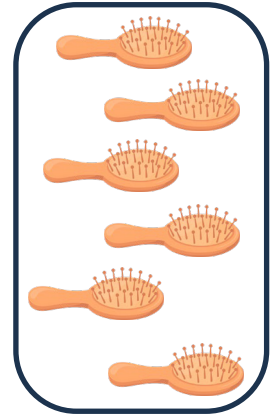
10



7



6



4

A. 6;

B. 10;

C. 7;

D. 5.

5. CARE SUNT URMĂTOARELE DOUĂ ELEMENTE DIN ȘIRUL DE MAI JOS?



6. MAMA PREGĂTEȘTE CÂTE DOUĂ PRĂJITURI PENTRU FIECARE COPIL.



CÂTE PRĂJITURI MAI ARE DE PREGĂTIT?

- A. 3;                      B. 0;                      C. 2;                      D. 4.

7. CARE SUNT NUMERELE DE PE FESURILE VECINILOR SPIRIDUȘULUI IERNII?



- A. 7 ȘI 8;                      B. 5 ȘI 7;                      C. 6 ȘI 7;                      D. 5 ȘI 6.


### EXCELENȚĂ

8. AȘAZĂ ÎN ORDINE DESCRESCĂTOARE NUMERELE SCRISE PE ROCHIȚA IERNII.

- A. 9, 8, 7, 5, 4, 3;  
 B. 3, 4, 5, 7, 8, 9;  
 C. 9, 7, 5, 3, 8, 4;  
 D. 3, 7, 8, 4, 5, 9.



9. ANDREI VREA SĂ DECOREZE CELE 6 PANOURI DIN CLASA LUI CU CÂTE UN FULG DE NEA. PÂNĂ ACUM A CONFEȚIONAT 2 FULGI.



CÂȚI FULGI MAI ARE DE CONFEȚIONAT?

- A. 3;                      B. 2;                      C. 4;                      D. 1.

Itemii 1-7 se notează cu câte 10 puncte fiecare; itemii 8-9 se notează cu câte 15 puncte fiecare.  
 Total: 100 de puncte.